



मुद्रित पृष्ठों की संख्या : 20

825(IL)

2

अनुक्रमांक

नाम .....

932

825(IL)

2021

सामाजिक विज्ञान

( Hindi and English Versions )

समय : 2 घण्टे 15 मिनट पूर्णांक : 70

Time : 2 Hours 15 Mins. Total Marks : 70

निर्देश : प्रारम्भ के 15 मिनट परीक्षार्थियों को प्रश्नपत्र पढ़ने के लिए निर्धारित हैं।

**Note :** First 15 minutes are allotted for the candidates to read the question paper.

1. प्रश्नपत्र दो खण्डों 'क' एवं 'ख' में विभाजित है। प्रत्येक खण्ड के प्रश्न एक साथ हल करना आवश्यक है।

2. खण्ड—'क'

i) बहुविकल्पीय प्रश्न — प्रश्न संख्या 1 से 6 बहुविकल्पीय प्रश्न हैं। 6 प्रश्नों में से 3 प्रश्न करें। प्रत्येक प्रश्न 2 अंक का है।  $2 \times 3 = 6$  अंक

ii) अति लघु उत्तरीय प्रश्न — प्रश्न संख्या 7 से 9 अति लघु उत्तरीय प्रश्न हैं। 3 प्रश्नों में से किन्हीं 2 प्रश्न को करें। प्रत्येक प्रश्न 3 अंक का है।

$3 \times 2 = 6$  अंक

iii) लघु उत्तरीय प्रश्न — प्रश्न संख्या 10 एवं 11 लघु उत्तरीय प्रश्न हैं। 2 प्रश्न में से किसी 1 प्रश्न को करें। प्रत्येक प्रश्न 6 अंक का है।  $6 \times 1 = 6$  अंक

iv) दीर्घ उत्तरीय प्रश्न — प्रश्न संख्या 12 एवं 13 दीर्घ उत्तरीय प्रश्न हैं। 2 प्रश्न में से किसी 1 प्रश्न को करें। प्रत्येक प्रश्न 12 अंक का है।

$12 \times 1 = 12$  अंक

v) मानचित्र सम्बन्धी प्रश्न — प्रश्न संख्या 14 मानचित्र सम्बन्धी प्रश्न है। सभी प्रश्न करें। सही नाम व सही अंकन हेतु  $\frac{1}{2} + \frac{1}{2}$  अंक निर्धारित है।

$1 \times 5 = 5$  अंक

दृष्टिबाधित परीक्षार्थियों हेतु (मानचित्र कार्य के विकल्प स्वरूप) सभी प्रश्न करें।

$1 \times 5 = 5$  अंक

3. खण्ड—'ख'

vi) बहुविकल्पीय प्रश्न — प्रश्न संख्या 15 से 20 बहुविकल्पीय प्रश्न हैं। 6 प्रश्नों में से 3 प्रश्न करें। प्रत्येक प्रश्न 2 अंक का है।  $2 \times 3 = 6$  अंक

vii) अति लघु उत्तरीय प्रश्न — प्रश्न संख्या 21 से 23 अति लघु उत्तरीय प्रश्न हैं। 3 प्रश्नों में से किन्हीं 2 प्रश्न को करें। प्रत्येक प्रश्न 3 अंक का है।

$3 \times 2 = 6$  अंक

- viii) लघु उत्तरीय प्रश्न — प्रश्न संख्या 24 एवं 25 लघु उत्तरीय प्रश्न हैं। 2 प्रश्न में से किसी 1 प्रश्न का करें। प्रत्येक प्रश्न 6 अंक का है।  $6 \times 1 = 6$  अंक
- ix) दीर्घ उत्तरीय प्रश्न — प्रश्न संख्या 26 एवं 27 दीर्घ उत्तरीय प्रश्न हैं। 2 प्रश्न में से किसी 1 प्रश्न का करें। प्रत्येक प्रश्न 12 अंक का है।

$$12 \times 1 = 12 \text{ अंक}$$

- x) मानचित्र सम्बन्धी प्रश्न — प्रश्न संख्या 28 मानचित्र सम्बन्धी प्रश्न है। सभी प्रश्न करें। सही नाम व सही अंकन हेतु  $\frac{1}{2} + \frac{1}{2}$  अंक निर्धारित है।

$$1 \times 5 = 5 \text{ अंक}$$

दृष्टिबाधित परीक्षार्थियों हेतु (मानचित्र कार्य के विकल्प स्वरूप) सभी प्रश्न करें।  $1 \times 5 = 5$  अंक

1. Question paper is divided into 2 parts — 'A' and 'B'. Answering all the questions of each part at a time is necessary.

### 2. Part-A

- i) **Multiple Choice Questions** — Question Nos. 1 to 6 are of MCQs type. Answer any 3 questions out of 6. Each question carries 2 marks.

$$2 \times 3 = 6 \text{ Marks}$$

- ii) **Very Short Answer Type Questions** — Question Nos. 7 to 9 are of this type. Answer any 2 questions out of 3. Each question carries 3 marks.

$$3 \times 2 = 6 \text{ Marks}$$

- iii) **Short Answer Type Questions** — Question Nos. 10 and 11 are Short Answer Type questions. Answer any 1 question out of 2. Each question carries 6 marks.  $6 \times 1 = 6$  Marks
- iv) **Long Answer Type Questions** — Question Nos. 12 and 13 are Long Answer Type questions. Answer any 1 question out of 2. Each question carries 12 marks.  $12 \times 1 = 12$  Marks
- v) **Map related question** — Question No. 14 is map related question. Answer all questions. For correct name and correct marking allotted mark is  $\frac{1}{2} + \frac{1}{2}$ .

$$1 \times 5 = 5 \text{ Marks}$$

**For Vision-impaired examinees** — Answer all questions in lieu of Map work.

$$1 \times 5 = 5 \text{ Marks}$$

### 3. Part-B

- vi) **Multiple Choice Questions** — Question Nos. 15 to 20 are of MCQs type. Answer any 3 questions out of 6. Each question carries 2 marks.

$$2 \times 3 = 6 \text{ Marks}$$

- vii) **Very Short Answer Type Questions** — Question Nos. 21 to 23 are of this type. Answer any 2 questions out of 3. Each question carries 3 marks.  $3 \times 2 = 6$  Marks

- viii) **Short Answer Type Questions** - Question No. 24 and 25 are Short Answer Type questions. Answer any 1 question out of 2. Each question carries 6 marks.  $6 \times 1 = 6$  Marks
- ix) **Long Answer Type Questions** - Question No. 26 and 27 are Long Answer Type questions. Answer any 1 question out of 2. Each question carries 12 marks.  $12 \times 1 = 12$  Marks
- x) **Map related question** - Question No. 28 is map related question. Answer all questions. For correct name and correct marking allotted mark is  $\frac{1}{2} + \frac{1}{2}$ .  $1 \times 5 = 5$  Marks

**For Vision-impaired examinees** - Answer all questions in lieu of Map work.

$1 \times 5 = 5$  Marks

खण्ड - क

**PART - A**

( बहुविकल्पीय प्रश्न )

**( Multiple Choice Type Questions )**

निर्देश : निम्नलिखित विकल्पों में से सही उत्तर चुनकर अपनी उत्तर-पुस्तिका में लिखिए :

Instruction : Choose the correct answer from the given alternatives and write in your answer-book :

1. "सत्याग्रह तो शुद्ध आत्मबल है।" यह कथन किसका है ?
- क) मोतीलाल नेहरू      ख) महात्मा गांधी  
ग) सी०आर० दास      घ) बालगंगाधर तिलक।

XX-11-

| Turn over

1. "Satyagraha is pure soul force." Whose statement is this ?
- a) Motilal Nehru  
b) M. K. Gandhi  
c) C. R. Das  
d) Bal Gangadhar Tilak.
2. 'आनन्दमठ' उपन्यास के लेखक कौन थे ?
- क) बंकिमचन्द्र चटर्जी      ख) रवीन्द्रनाथ टैगोर  
ग) शरतचन्द्र चटर्जी      घ) सुभाषचन्द्र बोस।
2. Who was the author of the novel 'Anandamath' ?
- a) Bankim Chandra Chatterjee  
b) Rabindra Nath Tagore  
c) Sharat Chandra Chatterjee  
d) Subhash Chandra Bose.
3. सविनय अवज्ञा आन्दोलन कब चलाया गया था ?
- क) 1920 ई०      ख) 1927 ई०  
ग) 1929 ई०      घ) 1930 ई०।
3. When was Civil Disobedience movement launched ?
- a) 1920 AD      b) 1927 AD  
c) 1929 AD      d) 1930 AD.

XX-11-

4. निम्नलिखित में से कौन-सा आन्दोलन गाँधी जी ने नहीं चलाया ?
- क) असहयोग आन्दोलन  
ख) खिलाफत आन्दोलन  
ग) सविनय अवज्ञा आन्दोलन  
घ) भारत छोड़ो आन्दोलन।
4. Which one of the following movements was not launched by M. K. Gandhi ?
- a) Non-cooperation movement  
b) Khilafat movement  
c) Civil Disobedience movement  
d) Quit India movement.
5. निम्नलिखित में से कौन-सा राज्य संघीय राज्य नहीं है ?
- क) मणिपुर                      ख) त्रिपुरा  
ग) हिमाचल प्रदेश          घ) जम्मू-काश्मीर।
5. Which one of the following states is not a federal state ?
- a) Manipur  
b) Tripura  
c) Himachal Pradesh  
d) Jammu-Kashmir.

6. निम्नलिखित में से कौन-सा शासन का अंग नहीं है ?
- क) कार्यपालिका              ख) नगरपालिका  
ग) न्यायपालिका              घ) विधायिका।
6. Which one of the following is not an organ of the Government ?
- a) Executive                      b) Nagarpalika  
c) Judiciary                        d) Legislature.

( अति लघु उत्तरीय प्रश्न )

( Very Short Answer Type Questions )

7. 1789 में फ्रांस में किस प्रकार की शासन व्यवस्था थी ? उसका विरोध क्यों हुआ ? कोई एक कारण लिखिए।
7. What type of Government was in France in 1789 ? Why was it opposed by the people ? Give any one reason.
8. लोकतांत्रिक शासन व्यवस्था में आर्थिक असमानता क्यों बढ़ती है ? संक्षेप में लिखिए।
8. Why does economic inequality increase in democratic government ? Write in brief
9. लोकतंत्र के समक्ष क्या चुनौतियाँ हैं ? किन्हीं दो का उल्लेख कीजिए।
9. What are the challenges against democracy ? Mention any two of them.

( लघु उत्तरीय प्रश्न )

( Short Answer Type Questions )

10. 1929 को आर्थिक मंदी का भारत पर क्या प्रभाव पड़ा ? किन्हीं दो का उल्लेख कीजिए।

अथवा

इटली के एकीकरण की प्रक्रिया को संक्षेप में लिखिए।

10. What was the impact of economic crisis of 1929 upon India ? Write any two of them.

OR

Write in brief about the process of the unification of Italy.

11. लोकतांत्रिक शासन एक उत्तरदायी शासन होता है। उदाहरण देकर उतर लिखिए।

अथवा

लोकतंत्र शासन में पारदर्शिता आवश्यक है। क्यों ? कारण लिखिए।

11. Democratic government is a responsible government. Mention it with example.

OR

Transparency is essential in democratic government. Why ? Give reasons.

( दीर्घ उत्तरीय प्रश्न )

( Long Answer Type Questions )

12. संघीय व्यवस्था क्या है ? भारत की संघीय व्यवस्था की किन्हीं दो विशेषताओं का वर्णन कीजिए।

अथवा

जातिवाद क्या है ? भारतीय लोकतंत्र में इसकी क्या भूमिका है ?

12. What is federalism ? Describe any two characteristics of Indian federal structure.

OR

What is casteism ? What is its role in Indian democracy ?

13. प्रौद्योगिकी ने वैश्वीकरण की प्रक्रिया को किस प्रकार उत्प्रेरित किया ? उदाहरण सहित स्पष्ट कीजिए।

अथवा

विश्व अर्थव्यवस्था क्या है ? इसके क्या कारण हैं ? किन्हीं दो का उल्लेख कीजिए।

13. How has Technology stimulated the globalization process ? Explain with examples.

OR

What is world economy ? What are its causes ? Mention any two of them.



( मानचित्र सम्बन्धी प्रश्न )

( Map Work )

निर्देश : निम्नलिखित स्थानों को भारत के दिये गये रेखा मानचित्र में ⊙ चिह्न द्वारा नाम सहित दर्शाइए।

Instruction : Locate the following places in the map with the symbol ⊙ and name them.

14. i) वह स्थान जहाँ सूती मिल श्रमिकों का सत्याग्रह हुआ।
  - ii) वह स्थान जहाँ जलियाँवाला बाग की घटना हुई।
  - iii) वह स्थान जहाँ दिसम्बर 1920 में कांग्रेस का अधिवेशन हुआ।
  - iv) वह स्थान जहाँ पूर्ण स्वराज की माँग का प्रस्ताव पारित हुआ।
  - v) वह स्थान जहाँ गांधी जी ने नमक बनाना प्रारम्भ किया।
14. i) The place where Cotton Mill workers organized their Satyagraha.
  - ii) The place where Jallianwala Bagh incident took place.
  - iii) The place where Congress session of December 1920 was organized.

- iv) The place where proposal of the complete independence was passed.
- v) The place from where Gandhiji started making salt.

( केवल दृष्टिबाधित परीक्षार्थियों के लिये मानचित्र कार्य के विकल्प के रूप में )

( Only for visually impaired examinees in lieu of Map work )

निर्देश : इन प्रश्नों के उत्तर अपनी उत्तर-पुस्तिका में लिखिए। मानचित्र का प्रयोग न कीजिए।

Instruction : Write the answers of the following questions in your answer-book. Do not use map.

14. i) सूती मिल श्रमिकों का सत्याग्रह कहाँ हुआ था ?
- ii) जलियाँवाला बाग की घटना किस स्थान पर घटित हुई थी ?
- iii) दिसम्बर 1920 में कांग्रेस का अधिवेशन किस स्थान पर हुआ था ?
- iv) सर्वप्रथम पूर्ण स्वराज की माँग का प्रस्ताव कहाँ पारित हुआ ?
- v) गांधी जी ने सर्वप्रथम नमक किस स्थान से बनाना प्रारम्भ किया ?

14. i) Where was the Satyagraha of Cotton Mill workers organized ?  
 ii) Where did the incident of Jallhanwala Bagh take place ?  
 iii) Where was the session of Congress held in December 1920 ?  
 iv) From where the demand of complete independence was first proposed ?  
 v) From where Gandhiji started making salt ?

खण्ड - छ

PART - B

( बहुविकल्पीय प्रश्न )

**( Multiple Choice Type Questions )**

निर्देश : निम्नलिखित विकल्पों में से सही उत्तर चुनकर अपनी उत्तर-पुस्तिका में लिखिए :

*Instruction* : Choose the correct answer from the given alternatives and write in your answer book :

15. लैटेराइट मिट्टी का रंग होता है  
 क) लाल                      ख) काला  
 ग) पीला                      घ) भूरा।
15. The colour of Laterite soil is  
 a) Red                      b) Black  
 c) Yellow                      d) Brown.

XX-11-

[ Turn over ]

16. काली मिट्टी में उगाई जाने वाली मुख्य फसल है  
 क) गेहूँ                      ख) कपास  
 ग) मक्का                      घ) बाजरा।
16. The main crop grown in Black soil is  
 a) Wheat                      b) Cotton  
 c) Maize                      d) Bajra.
17. भारत में निम्न में से सर्वाधिक चाय उत्पादक राज्य कौन-सा है ?  
 क) असम                      ख) केरल  
 ग) तमिलनाडु                      घ) पश्चिम बंगाल।
17. In India which one of the following states has maximum tea production ?  
 a) Assam                      b) Kerala  
 c) Tamil Nadu                      d) West Bengal.
18. 'उपभोक्ता दिवस' के रूप में मनाया जाता है  
 क) 24 मार्च को                      ख) 24 मई को  
 ग) 24 सितम्बर को                      घ) 24 दिसम्बर को।
18. Celebration of 'Consumer Day' is on  
 a) 24th March  
 b) 24th May  
 c) 24th September  
 d) 24th December.

XX-11-

19. विश्व व्यापार संगठन का मुख्यालय है
- क) वाशिंगटन में      ख) लन्दन में  
ग) टोकियो में      घ) जेनेवा में।
19. Headquarters of W.T.O. ( World Trade Organisation ) is in
- a) Washington      b) London  
c) Tokyo      d) Geneva.
20. निम्न में से सार्वजनिक क्षेत्र में कौन नहीं है ?
- क) रेलवे      ख) डाकघर  
ग) सेल      घ) टिस्को।
20. Which one of the following is not in Public Sector ?
- a) Railways  
b) Post Office  
c) SAIL  
d) TISCO.

( अति लघु उत्तरीय प्रश्न )

( Very Short Answer Type Questions )

21. व्यक्तिगत संसाधन क्या हैं ?  
21. What are personal resources ?

22. भारत को किन्हीं दो महत्वपूर्ण पंच फसलों के नाम लिखिए।  
22. Write the names of any two main beverage crops in India.  
23. विदेशी व्यापार का मुख्य कार्य क्या है ?  
23. What are the main functions of foreign trade ?

( लघु उत्तरीय प्रश्न )

( Short Answer Type Questions )

24. 'ऑपरेशन फ्लड' क्या है ?

अथवा

उपभोक्ता का शोषण रोकने के कोई दो उपाय लिखिए।

24. What is 'Operation Flood' ?

OR

Write any two measures to prevent consumer exploitation.

25. प्राकृतिक संसाधनों की कोई तीन विशेषताएँ लिखिए।

अथवा

भारत की किसी एक खाद्य फसल का नाम लिखिए और उन क्षेत्रों का विवरण दें जहाँ इसका उत्पादन किया जाता है।



25. Write any *three* characteristics of Natural Resources.

OR

Write the name of any *one* food crop in India and describe the areas where it is grown.

( दीर्घ उत्तरीय प्रश्न )

( Long Answer Type Questions )

26. कृषि उत्पादन में वृद्धि करने के लिए सरकार द्वारा क्या उपाय किये गये हैं ?

अथवा

भारतीय अर्थव्यवस्था पर वैश्वीकरण के सकारात्मक व नकारात्मक प्रभाव लिखिए।

26. To increase agricultural production, what measures are taken by the government ?

OR

Write the positive and negative effects of globalization in Indian economy.

27. धान को खेती के लिए उपयुक्त भौगोलिक परिस्थितियों का वर्णन कीजिए।

अथवा

असंगठित क्षेत्र के श्रमिकों के संरक्षण हेतु कौन-से उपाय किये जा सकते हैं ?

27. Describe the appropriate geographical conditions of Paddy farming.

OR






Which measures can be adopted to protect the labours in unorganised sector.




( मानचित्र कार्य )

( Map Work )

निर्देश : दिये गये भारत के मानचित्र में निम्नलिखित को दर्शाइए :

Instruction : Show the following on the given map of India.

28. i) गंगा नदी  चिह्न द्वारा नाम सहित।
- ii) गेहूँ उत्पादक क्षेत्र  चिह्न सहित।
- iii) चायल उत्पादक क्षेत्र  चिह्न सहित।
- iv) नरोरा परमाणु केन्द्र  चिह्न द्वारा नाम सहित।
- v) उत्तर रेलवे का मुख्यालय  चिह्न एवं नाम सहित।

28. i) River Ganga by  symbol with name.
- ii) Wheat producing area by  symbol.
- iii) Rice growing area by  symbol.

- iv) Narora atomic energy plant by ▲ symbol with name.  
v) Headquarters of Northern Railways by ⊙ symbol with name.

( केवल दृष्टिबाधित परीक्षार्थियों के लिये  
मानचित्र कार्य के विकल्प के रूप में )

( Only for vision-impaired examinees in  
lieu of map work )

निर्देश : निम्नलिखित प्रश्नों के उत्तर अपनी उत्तर-पुस्तिका में  
लिखिए। मानचित्र का प्रयोग न कीजिए।

Instruction : Write answers of the following  
questions in your answer-book.  
Do not use the map.

28. i) चावल उत्पादन के प्रमुख क्षेत्र का नाम बताइए।  
ii) अधिक वर्षा वाले क्षेत्र का नाम बताइए।  
iii) भाखड़ा नांगल बांध किस नदी पर बनाया  
गया है ?  
iv) पटना किस राज्य की राजधानी है ?  
v) उत्तराखण्ड के किसी एक पर्यटक केन्द्र का नाम  
लिखिए।

28. i) Mention the name of main area of  
rice production.  
ii) Give the name of heavy rainfall area.  
iii) On which river is Bhakra Nangal  
Dam located ?  
iv) Which state's capital is Patna ?  
v) Write the name of one tourist centre  
of Uttarakhand.